

TEMA: Ubicación en el espacio, puntos cardinales. (Norte, Sur, oriente, Occidente) Elementos cartográficos (planos, mapas, rosa de los vientos)

La ubicación en el espacio es la orientación de nuestro cuerpo en los diferentes sentidos (arriba, abajo, izquierda o derecha) y saber ¿Dónde estoy? ¿Dónde está lo que me rodea?




1. Recorta y pega según el sentido de las flechas

Recorta y pega en la cuadrícula correspondiente				

Los **puntos cardinales** son las cuatro direcciones que nos ayudan a ubicarnos en el espacio donde nos encontremos, para comprenderlos mejor se relaciona con la salida del sol.




2. Observa la imagen y escribe los puntos cardinales según corresponda. Luego completa siguiendo las instrucciones.
Dibuja un árbol al este, unas flores al oeste, unos pájaros al norte y un conejo al sur.



3. Completa la información con lo visto en clase.

Para ubicarnos en cualquier lugar, es necesario orientarnos, saber dónde nos encontramos.

Los 4 puntos cardinales son:



Por el _____ sale el sol.

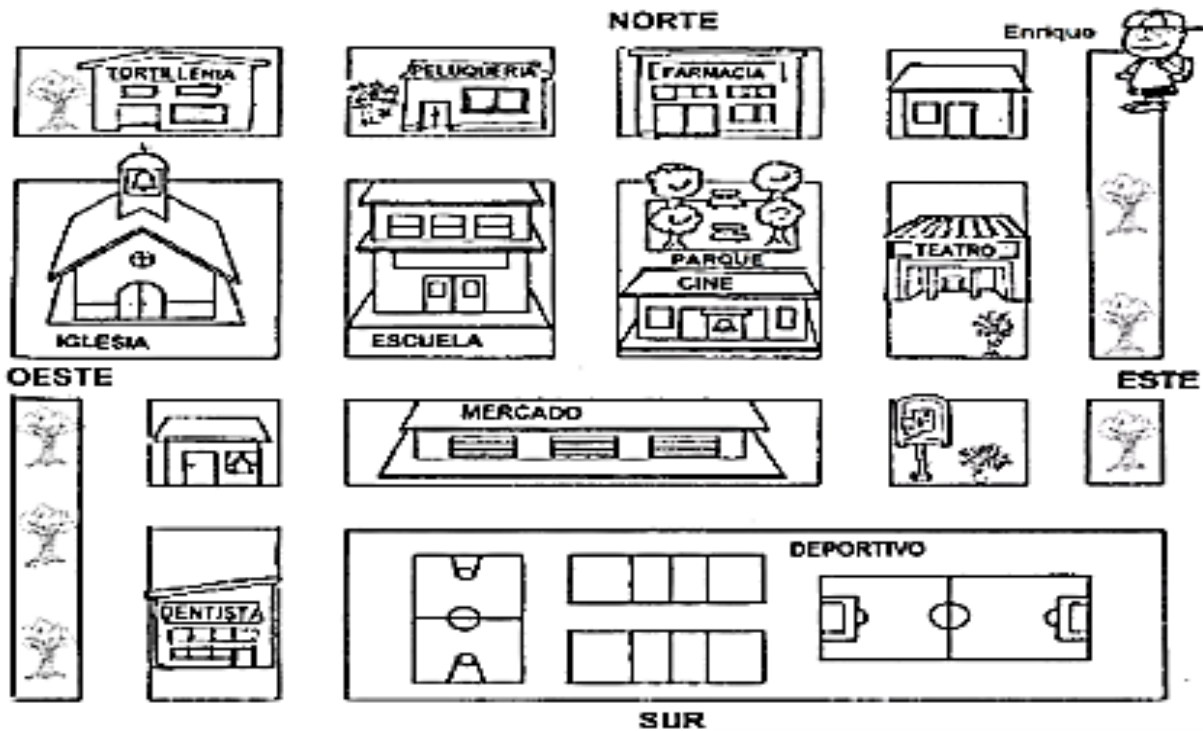
Por el _____ se oculta.

Si pongo mi mano derecha señalando el Este, mi mano izquierda señala el _____, frente a mí tendré al _____, y detrás de mí al _____.

La cartografía es la ciencia y arte que se encarga de estudiar y elaborar mapas en una superficie plana, de territorios geográficos por medio de dibujos.



4. Observa el plano y responde



- A la izquierda del cine hay : _____
- A la derecha del mercado hay: _____
- Entre la tortillería y la farmacia hay una: _____
- Marca dos caminos por los cuales Enrique pueda llegar con el dentista, usa dos colores distintos.

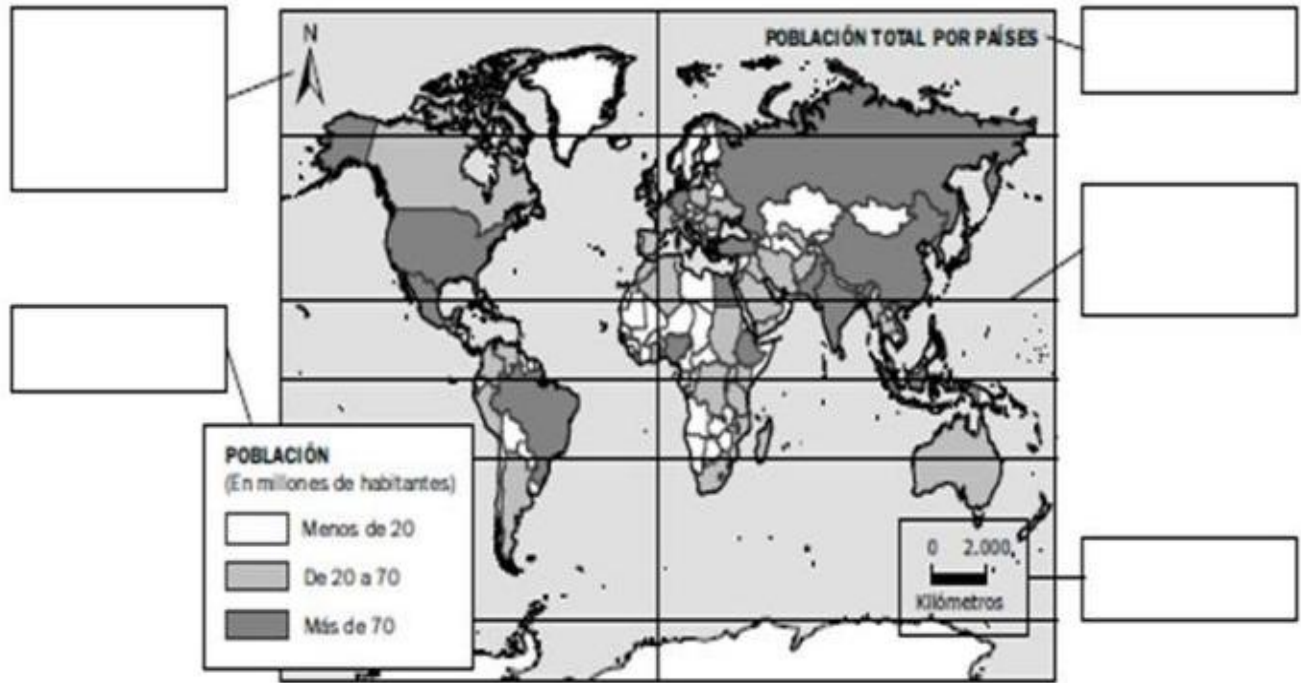
Los mapas son representaciones cartográficas que nos permiten ubicarnos, conocer información de un territorio aprender a interpretar símbolos.



Observa la imagen y escribe los nombres de los elementos del mapa.

5. Escribe los puntos cardinales que indica la rosa de los vientos.

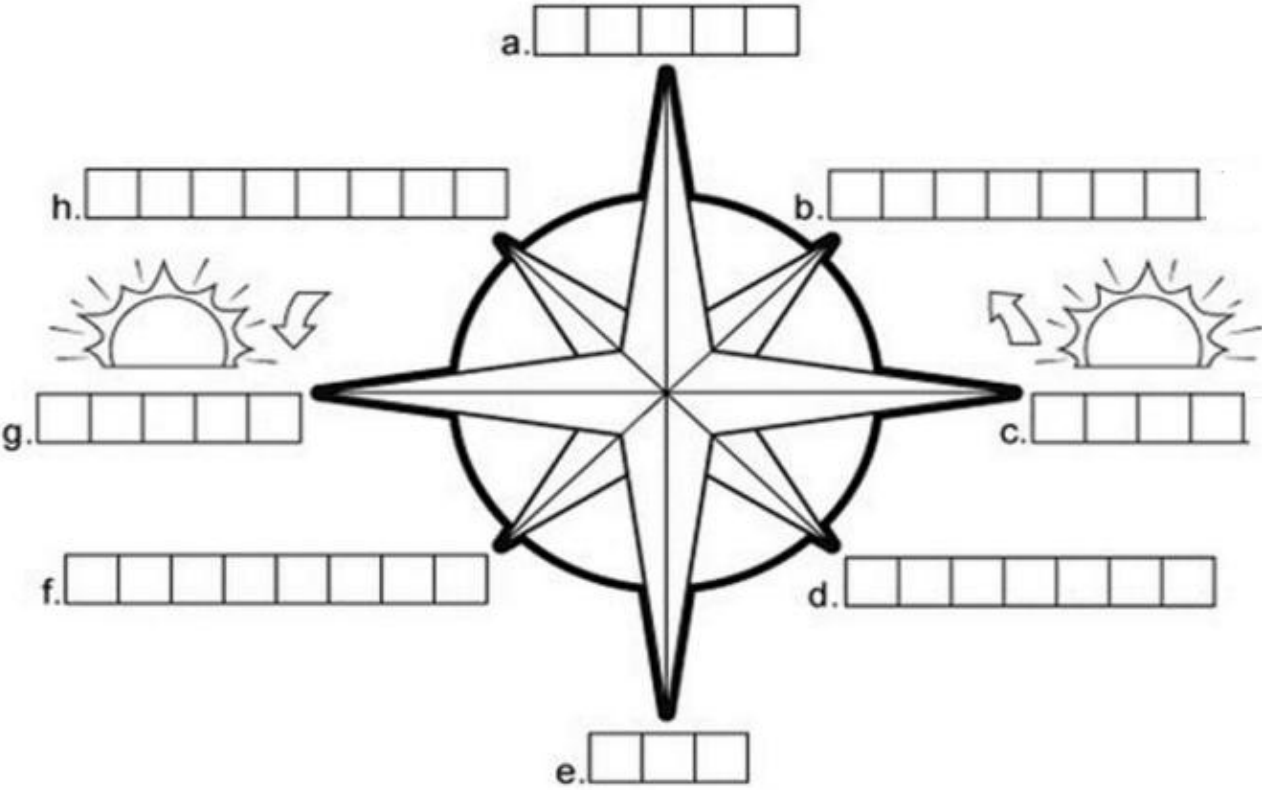
Rosa de los vientos, simbología, escala, coordenadas, título



La rosa de los vientos es una gráfica que nos indica los puntos cardinales secundarios Noreste, Sureste, Noreste y Suroeste

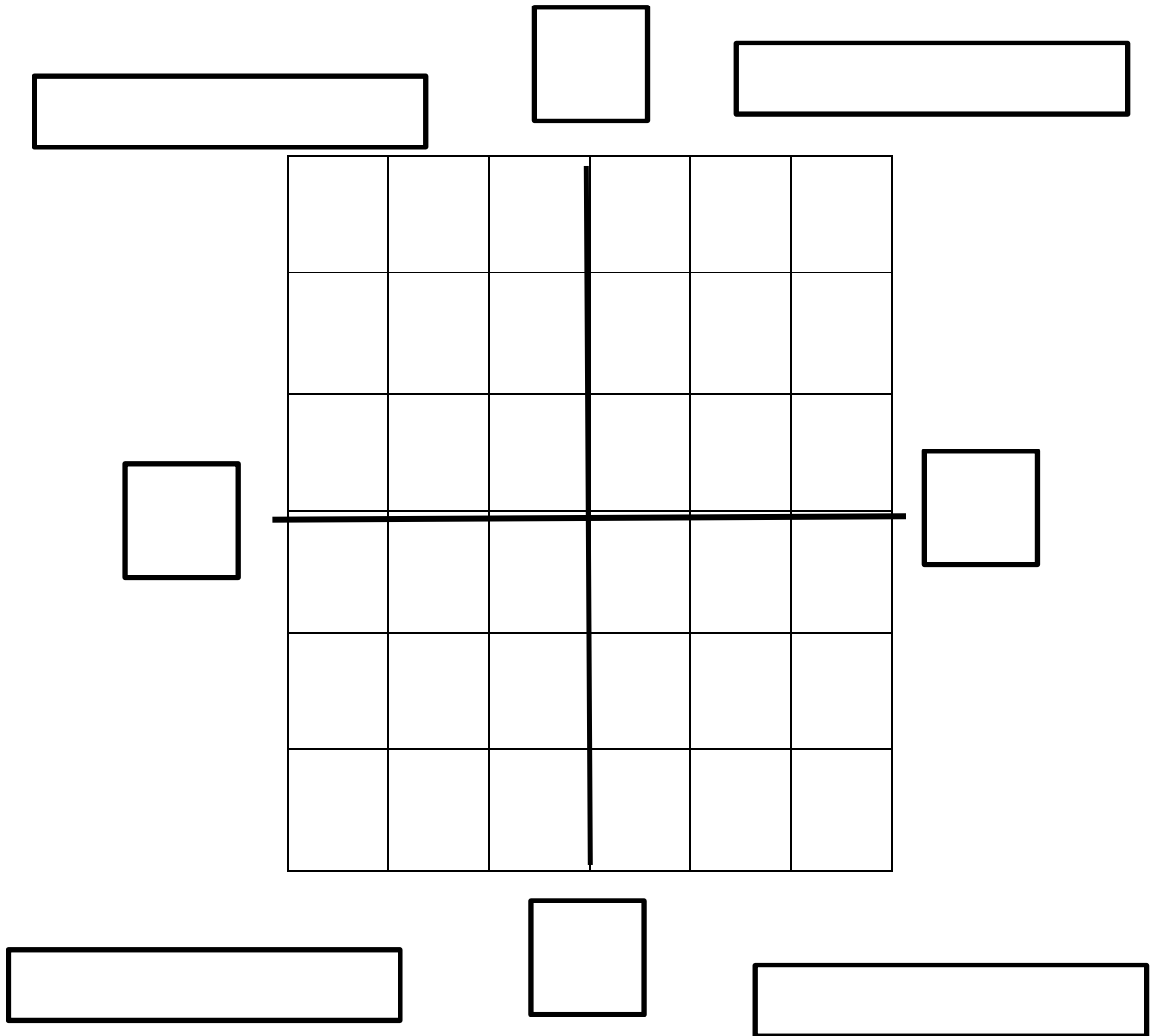


6. Escribe los puntos cardinales que indica la rosa de los vientos.



7. Dibuja en el plano las siguientes imágenes según la ubicación dada:

- Cofre del tesoro al Noroeste
- Barco al Suroeste
- Montañas al Noreste
- Pirata al Sureste.



PREGUNTA POR COMPETENCIA

Lee y selecciona la respuesta correcta.

Daniel salió a elevar cometa y se elevo muy alto como lo muestra la imagen



8. Es correcto afirmar que la cometa esa volando hacia

- A. el norte
- B. el noroeste
- C. el sureste
- D. el noroccidente

9. Danilo es un gran explorador, todos los fines de semana sale con su padre a escalar montañas, explorar cuevas, observar nuevos animales y plantas, para regresar a casa y orientarse utiliza

- A. un calendario
- B. los puntos de admiración
- C. la rosa de los vientos
- D. el reloj



10. Es correcto afirmar que Danilo para llegar a un lugar desconocido puede usar para ubicarse

- A. un dibujo
- B. un radio
- C. un mapa
- D. el sistema solar

ENLACES RELACIONADOS

<https://www.youtube.com/watch?v=3wdLezvyPQI> ubicación en el espacio

https://www.youtube.com/watch?v=j_fKjJUnv-Q&t=27s Puntos cardinales.

<https://www.youtube.com/watch?v=Mad8refpcw4> el mapa y sus elementos

<https://www.youtube.com/watch?v=hn8Sr1MAM3Y> aprende los puntos cardinales

Señor padre de familia:

Firme este taller sólo cuando compruebe que ha sido desarrollado totalmente

Fecha: _____

